

GEOGRAFIA

1ª QUESTÃO

Sobre tempo, analise as afirmativas a seguir:

- I. Uma mudança na temperatura do ar pode ser interpretada como uma mudança no tempo meteorológico.
- II. A formação de uma frente fria dá origem a uma mudança no clima, e não no tempo meteorológico numa determinada região.
- III. O tempo representa um conjunto de condições meteorológicas que se mantêm em determinada região por mais de cinquenta anos.

É CORRETO o que se afirma em

- A) I e II, apenas.
- B) II, apenas.
- C) II e III, apenas.
- D) I, apenas.
- E) III, apenas.

2ª QUESTÃO

Sobre os princípios que norteiam os sistemas de classificação dos tipos de climas, é CORRETO afirmar:

- A) A classificação climática de Thornthwaite baseia-se na temperatura, na precipitação e na evapotranspiração.
- B) A classificação climática de Köppen-Geiger baseia-se na dinâmica das massas de ar e nos elementos e fatores do clima.
- C) A classificação climática de Strahler baseia-se nas grandes associações vegetais, nos limites térmicos e pluviométricos e nas estações do ano.
- D) A classificação climática de Strahler baseia-se nos valores médios de temperatura e precipitação.
- E) Os tipos climáticos principais da classificação de Strahler indicam os limites térmicos e pluviométricos, a distribuição da chuva e a variação anual da temperatura.

3ª QUESTÃO

O clima urbano é produzido por modificações nas condições de superfície que resultam em:

- A) aumento do albedo, diminuição da amplitude térmica e diminuição da magnitude das chuvas.
- B) aumento do albedo, aumento da magnitude das chuvas e diminuição da frequência de chuvas.
- C) aumento de partículas em suspensão no ar, aumento da temperatura e da corrente de convecção e aumento do volume de chuvas.
- D) aumento da temperatura, diminuição da amplitude térmica e aumento da corrente de convecção.
- E) aumento do albedo, diminuição da temperatura e aumento da frequência de chuvas de baixa magnitude.

4ª QUESTÃO

A previsão do clima NÃO é considerada

- A) na criação de alertas de inundações em áreas de risco urbanas.
- B) no planejamento da infraestrutura de uma cidade.
- C) na proposição de planos de desenvolvimento agrícola.
- D) na proposição de ações de melhoria da pesca oceânica.
- E) no planejamento de ações de abastecimento hídrico.

5ª QUESTÃO

A análise da emissão dos gases de efeito estufa NÃO considera

- A) o descongelamento de solos de *permafrost*, ou pergelissolos, que forma metano (CH₄) e dióxido de carbono (CO₂).
- B) a fertilização das plantas por CO₂ e o reflorestamento.
- C) a biomassa florestal tropical como um provável absorvedor de CO₂ excedente.
- D) a absorção dos gases pelo solo e pelos oceanos.
- E) a queima de combustíveis fósseis, como o petróleo.

6ª QUESTÃO

Sobre massas de ar, é CORRETO afirmar:

- A) A massa de ar quente e úmida é formada nas baixas latitudes (zona equatorial-tropical), sobre os continentes.
- B) A massa de ar quente e seca é formada nas latitudes médias (zona temperada), sobre os continentes.
- C) A massa de ar quente e úmida é formada nas baixas latitudes (zona equatorial-tropical), sobre os oceanos e, excepcionalmente, sobre a Amazônia.
- D) A massa de ar fria e úmida é formada nas altas latitudes (zona polar), sobre os oceanos.
- E) A massa de ar fria e seca é formada nas latitudes médias (zona temperada), sobre os oceanos frios.

7ª QUESTÃO

Os máximos de precipitação de chuvas, no verão, nas regiões Sudeste e Centro-Oeste do Brasil estão relacionados

- A) à Zona de Convergência Intertropical (ZCIT).
- B) à Frente Polar Atlântica (FPA).
- C) às Linhas de Instabilidade de Noroeste (INW).
- D) aos Processos Frontogênicos (FPA).
- E) à Zona de Convergência do Atlântico Sul (ZCAS).

8ª QUESTÃO

O potencial para geração de energia solar de cada região ou localidade está relacionado

- A) ao tipo de superfície, ao período do ano e à latitude.
- B) ao período do ano, ao período do dia e à latitude.
- C) à continentalidade, ao período do ano, ao período do dia e à latitude.
- D) à cobertura vegetal do território, ao período do dia, ao período do ano e à latitude.
- E) ao albedo, ao período do dia, ao período do ano e à latitude.

9ª QUESTÃO

Sobre magnitude e frequência de chuvas, é INCORRETO afirmar:

- A) A relação de magnitude e frequência de chuvas de duas regiões distintas pode ser diferente, mesmo que a média de precipitação anual dessas regiões seja igual.
- B) A relação de magnitude e frequência das chuvas considera o volume, em dia, mês ou ano, distribuído ao longo de determinado tempo cronológico.
- C) As chuvas de maior frequência são as de menor magnitude.
- D) As chuvas dominantes em determinado período de tempo são chuvas de menor magnitude.
- E) As chuvas de maior magnitude apresentam intervalos de recorrência menores.

10ª QUESTÃO

NÃO é consequência da poluição atmosférica do ar

- A) o aumento do material particulado emitido por fontes fixas, como indústrias, ou difusas, como veículos.
- B) a reflexão, a dispersão e a absorção da radiação solar.
- C) a diminuição da insolação.
- D) a formação de núcleos de condensação.
- E) o aumento da temperatura das superfícies.

11ª QUESTÃO

A desertificação de terras áridas NÃO está relacionada

- A) à ascensão de ar quente.
- B) aos cinturões de anticlones subtropicais.
- C) à continentalidade.
- D) às fachadas ocidentais das latitudes tropicais continentais, banhadas por correntes frias.
- E) às posições de sotavento.

12ª QUESTÃO

NÃO é um tipo de inversão de temperatura a

- A) inversão de superfície por radiação.
- B) inversão de subsidência.
- C) inversão higrométrica.
- D) inversão de superfície por advecção.
- E) inversão frontal.

13ª QUESTÃO

A representação espacial de informações geográficas específicas em uma base cartográfica é denominada

- A) cartografia geral.
- B) cartografia temática.
- C) cartografia sistêmica.
- D) cartografia elementar.
- E) cartografia de base.

14ª QUESTÃO

A cidade de Vitória/ES está localizada na faixa do segundo fuso horário brasileiro e sua hora local coincide com o horário oficial de Brasília. Considere que um avião partirá de Vitória/ES às 22h10, com destino à cidade de Cuiabá/MT, que está localizada na faixa do terceiro fuso horário brasileiro. Sabendo-se que a viagem tem duração de 2h15, o horário de chegada do avião à cidade de Cuiabá é

- A) 00h35.
- B) 23h35.
- C) 00h15.
- D) 22h25.
- E) 23h25.

15ª QUESTÃO

No mapa de um terreno, com escala de 1:5.000, foi demarcada uma área quadrada de 6cm de lado. Considerando a escala utilizada, a área demarcada no mapa corresponde, no terreno, a

- A) 300m²
- B) 30.000m²
- C) 900m²
- D) 90.000m²
- E) 600m²

16ª QUESTÃO

As curvas de níveis, por apresentarem a mesma informação de valores altimétricos ao longo de sua extensão, são chamadas de

- A) isotermas.
- B) isóbaras.
- C) isoípsas.
- D) isoietas.
- E) isóbatas.

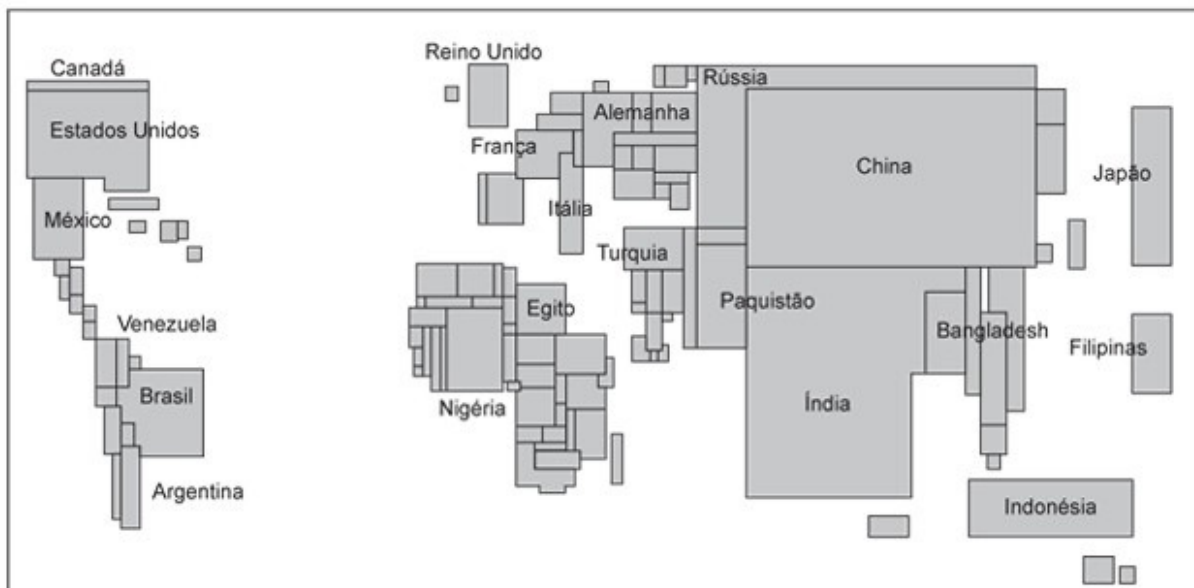
17ª QUESTÃO

Os mapas são representações de dados da superfície terrestre que, quando elaborados por meio de projeção cilíndrica,

- A) não apresentam deformações.
- B) apresentam deformações nas altas latitudes.
- C) não apresentam deformações nas médias latitudes.
- D) apresentam deformações nas baixas latitudes.
- E) não apresentam deformações nos polos.

18ª QUESTÃO

Observe a figura a seguir, que representa uma anamorfose geográfica:



Fonte: <<http://papaprova.com/questoes/analise-as-representacoes-cartograficas-a-seguir-estas-representacoes-sao-anamorfozes-geograficas-uma-ana>>. Acesso: em 27 ago. 2018.

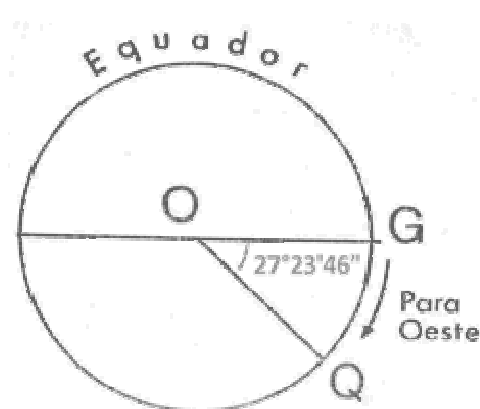
Uma anamorfose geográfica representa a superfície dos países em áreas proporcionais aos dados quantitativos que estão sendo representados. Nesse contexto, a anamorfose geográfica acima demonstra a distribuição global

- A) da população absoluta.
- B) do produto nacional bruto.
- C) do grau de instrução superior da população.
- D) do nível de industrialização.
- E) da produção agrícola.

19ª QUESTÃO

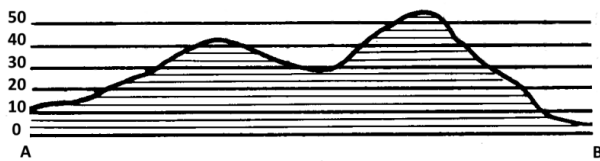
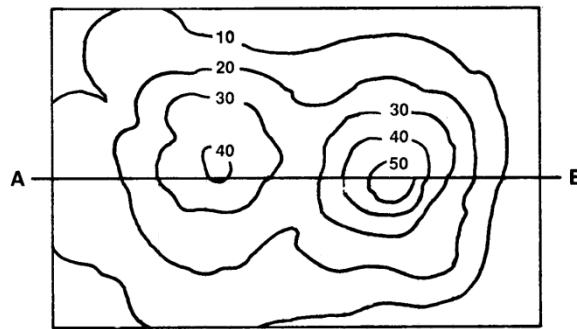
A figura ao lado representa o plano do Equador. Sobre esse plano, foi traçado um segmento de reta OG, projetado como o raio de um círculo. O deslocamento de um indivíduo do ponto G para o ponto Q forma o segmento OQ. Com base nessas informações, é CORRETO afirmar que a figura ao lado ilustra o deslocamento de um indivíduo

- A) de uma longitude qualquer a outra localizada a $27^{\circ}23'46''$ de distância.
- B) do Equador para o Trópico de Câncer.
- C) de uma latitude qualquer a outra localizada a $27^{\circ}23'46''$ de distância.
- D) de uma latitude localizada a $27^{\circ}23'46''$ de distância do Meridiano de Greenwich.
- E) do Equador para o Trópico de Capricórnio.

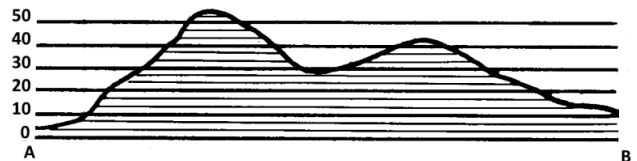


20ª QUESTÃO

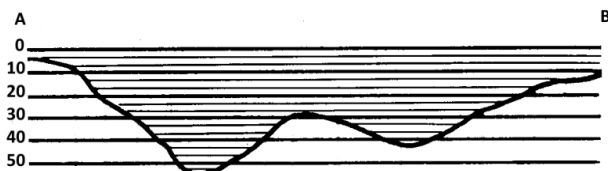
Observe as curvas de níveis a seguir e os cinco perfis topográficos, numerados de I a V, abaixo.



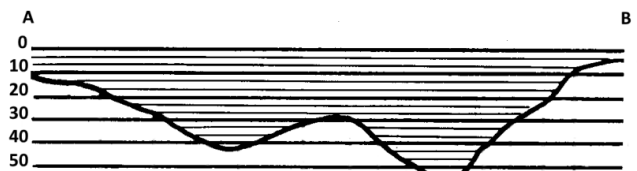
I



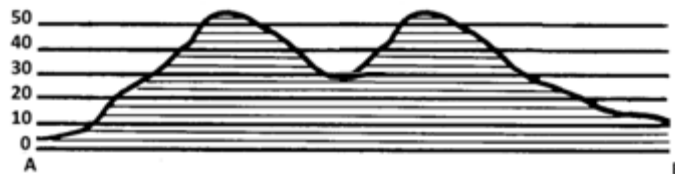
II



III



IV



V

Corresponde às curvas de níveis acima o perfil topográfico apresentado em

- A) I.
- B) II.
- C) III.
- D) IV.
- E) V.

21ª QUESTÃO

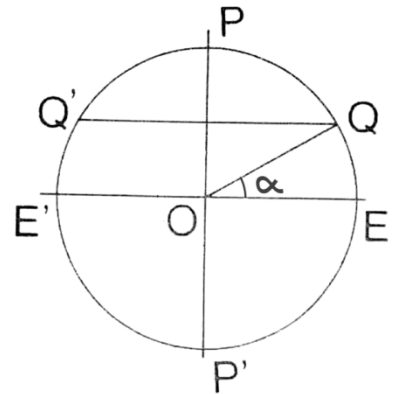
Em uma carta topográfica com escala de 1:250.000, a distância entre um ponto A e um ponto B é 4cm. Considerando essas informações, a distância real, em metros, entre os dois pontos é

- A) 1.000.
- B) 1.250.
- C) 2.500.
- D) 10.000.
- E) 12.500.

22ª QUESTÃO

Considerando que a figura ao lado corresponde ao plano de um meridiano, é CORRETO afirmar que o ângulo alfa representa, nessa figura, o ângulo formado entre

- A) o Equador e o eixo da Terra, projetando uma latitude na superfície.
- B) o Meridiano de Greenwich e o eixo da Terra, projetando uma latitude na superfície.
- C) o Equador e o Meridiano de Greenwich, projetando uma latitude na superfície.
- D) o Meridiano de Greenwich e o eixo da Terra, projetando uma longitude na superfície.
- E) o Equador e o eixo da Terra, projetando uma longitude na superfície.



23ª QUESTÃO

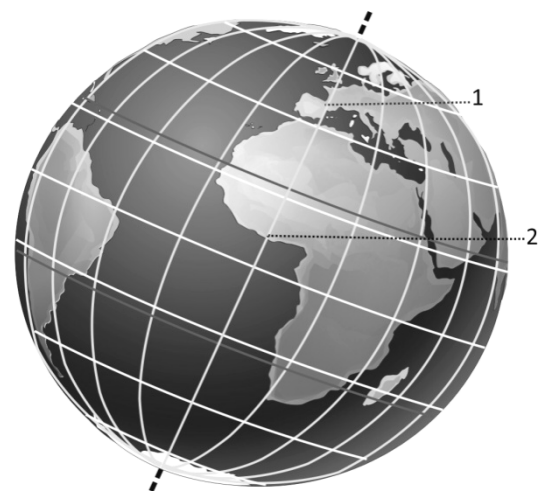
Um meridiano é uma linha imaginária cuja distância é medida, em graus, a partir da linha coordenada referenciada

- A) pelo Equador, demarcando altitude.
- B) por Greenwich, demarcando longitude.
- C) por Greenwich, demarcando latitude.
- D) pelo Equador, demarcando latitude.
- E) pelo Equador, demarcando longitude.

24ª QUESTÃO

Considerando que, na figura ao lado, o ponto **1** corresponde à cidade de Barcelona, na Espanha, e o ponto **2** corresponde à cidade de Acra, em Gana, é CORRETO afirmar que essas duas cidades estão

- A) em igual momento do dia e em diferente período sazonal.
- B) em diferente momento do dia e em diferente período sazonal.
- C) em igual período do dia e no mesmo período sazonal.
- D) em igual latitude e em diferente período sazonal.
- E) em diferente longitude e no mesmo período sazonal.



25ª QUESTÃO

Nas figuras 1 e 2, ao lado, a área destacada corresponde ao estado do Amazonas no mapa do Brasil. Considerando a escala das duas figuras, é CORRETO afirmar que:

- A) a área em destaque na figura 2 foi ampliada uma vez em relação à mesma área na figura 1.
- B) a área em destaque na figura 2 foi ampliada duas vezes em relação à mesma área na figura 1.
- C) a área em destaque na figura 2 foi ampliada três vezes em relação à mesma área na figura 1.
- D) a área em destaque na figura 2 foi ampliada quatro vezes em relação à mesma área na figura 1.
- E) a área em destaque na figura 2 foi ampliada cinco vezes em relação à mesma área na figura 1.

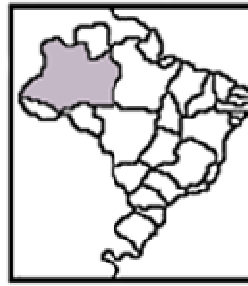


Figura 1

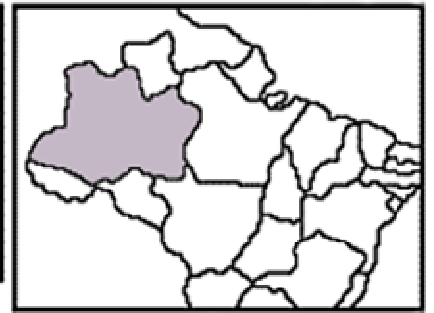


Figura 2

Figura 1 - escala = 1:120.000.000

Figura 2 - escala = 1:60.000.000

LÍNGUA PORTUGUESA

Leia o texto a seguir e responda às questões de **26** a **34**.

Texto I

1	Governo da Inglaterra proíbe venda de pets
2	Comércio informal e pet shops não poderão comercializar animais com menos de dois meses
3	A Inglaterra tomou um passo importante para ajudar os pets. Na última quarta-feira, 22, o
4	governo lançou uma proposta para proibir a venda de animais de estimação em pet shops e
5	comércios informais. Apenas cães e gatos com menos de dois meses serão contemplados
6	pela novidade, que entra em vigor no dia 1º de outubro no país.
7	O objetivo da medida é interromper o mercado ilegal de compra e venda de pets, já que
8	esses animais, em sua maioria, apresentam muitos problemas de saúde porque vivem em
9	más condições e são forçados a reproduzir inúmeras vezes.
10	Na semana passada, foi aberta uma consulta pública sobre o tema. Caso a proposta tenha
11	aprovação, a lei pode ficar ainda mais rigorosa e os filhotes de até seis meses não poderão
12	mais ser vendidos em pet shops - quem quiser um filhotinho, terá de tratar diretamente com
13	quem tem licença para criar animais ou ir a um centro de gatos e cachorros resgatados.
14	A proposta foi motivada pela história de Lucy, uma cadela da raça Cavalier King Charles
15	Spaniel que foi maltratada e forçada a procriar várias vezes ao ano. Ela não resistiu aos
16	problemas de saúde e morreu em 2016, três anos após ser resgatada.
<small>Disponível em: https://www.terra.com.br/vida-e-estilo/comportamento/governo-da-inglaterra-proibe-venda-de-pets,01855c68dbf251f90993b1dcada9500c5kntxzc0.html. Acesso em: 7 set. 2018. Adaptado.</small>	

26ª QUESTÃO

De acordo com o texto:

- A) Todos os animais de estimação da Inglaterra estarão protegidos do comércio ilegal a partir de 1º de outubro.
- B) Com o principal objetivo de estimular a adoção de animais domésticos abandonados, a Inglaterra lançou uma proposta de lei que visa a inibir a venda de inúmeras espécies de cães e gatos.
- C) Como a Inglaterra faz parte da rota do tráfico de animais exóticos, um projeto de lei foi criado para proibir essa triste realidade.
- D) Na Inglaterra, há uma proposta de lei para que, a partir de 1º de outubro, cães e gatos com menos de dois meses sejam proibidos de serem vendidos.
- E) A Inglaterra proibiu a venda de animais domésticos e selvagens com o propósito de coibir o tráfico ilegal desses animais.

27ª QUESTÃO

Analise as afirmativas a seguir:

- I. No título do texto, a expressão “pets” (linha 1), sem nenhum especificador, identifica que a proibição de venda será referente a todos os animais de estimação, mas, o enunciado “Apenas cães e gatos com menos de dois meses serão contemplados pela novidade” (linhas 5 e 6) revela que os pets a que o título se refere são somente cães e gatos com menos de dois meses.
- II. No título do texto, a expressão “proíbe” (linha 1) ressalta que uma ação, antes permitida, não será mais autorizada, mas, na continuação da leitura do texto, o que se noticia de fato não são proibições, mas recomendações de que os ingleses parem de comprar animais de estimação e passem a adotar cães e gatos abandonados.
- III. Há contradição no texto já que, no primeiro parágrafo, afirma-se que a medida valerá apenas para cães e gatos de até dois meses (linha 5), mas depois revela-se que, caso a medida seja aprovada, ela valerá para filhotes de até seis meses (linha 11).

É CORRETO o que se afirma em

- A) I, apenas.
- B) II, apenas.
- C) III, apenas.
- D) I e III, apenas.
- E) I, II e III.

28ª QUESTÃO

Considere as sentenças:

- I. Governo da Inglaterra proíbe venda de pets (linha 1).
- II. Na última quarta-feira, 22, o governo lançou uma proposta para proibir a venda de animais de estimação em pet shops e comércios informais (linhas 3-5).

É CORRETO o que se afirma em:

- A) A informação da sentença (II) é um esclarecimento exato e pontual daquilo que se afirmou na sentença (I).
- B) As informações da sentença (I) ilustram verossimilmente a afirmação da sentença (II).
- C) A sentença (I) pressupõe que a lei já teria sido aprovada, mas a sentença (II) revela que se trata apenas de uma proposta.
- D) A informação da sentença (II) é resumida pela sentença (I).
- E) A informação apresentada na sentença (II) é uma consequência da informação da sentença (I).

29ª QUESTÃO

O par de palavras, extraídas do texto, em que a segunda é uma retomada anafórica da primeira é:

- A) Inglaterra (linha 3) – novidade (linha 6).
- B) mercado (linha 7) – licença (linha 13).
- C) objetivo (linha 7) – consulta (linha 10).
- D) consulta (linha 10) – lei (linha 11).
- E) proposta (linha 4) – proposta (linha 14).

30ª QUESTÃO

No último parágrafo do texto,

- A) há destaque para o resultado de determinadas ações (maltratar, forçar, resgatar), e não para o agente que as promoveu.
- B) as ações expressas pelos verbos maltratar, forçar e resgatar são representativas de que nenhum ser humano tem condições de cuidar de animais.
- C) os verbos maltratar, forçar e resgatar, no particípio, indicam que as ações estão em curso e que, somente por essa razão, estão na voz passiva.
- D) as verbos resistir e morrer também estão na voz passiva, porque o sujeito sofreu as ações expressas por esses verbos.
- E) a primeira oração pode ser alterada para "a história de Lucy motivou a proposta", bem como as demais orações também podem ser usadas na voz ativa, porque em todas elas o agente da passiva está plenamente expresso.

31ª QUESTÃO

Em "Caso a proposta tenha aprovação, a lei pode ficar ainda mais rigorosa e os filhotes de até seis meses não poderão mais ser vendidos em pet shops [...]" (linhas 10-12), o conector "e"

- A) adiciona dois enunciados interrogativos, ressaltando uma dúvida.
- B) acumula uma série de enunciados, formando um polissíndeto complexo.
- C) finaliza um enunciado, tornando implícito o conhecimento necessário para produção de sentido.
- D) mantém contato entre dois elementos distintos, marcando uma relação de negação.
- E) adiciona dois temas, concorrendo para a progressão temática.

32ª QUESTÃO

Analise as afirmativas a seguir:

- I. O termo "esses" (linha 8) refere-se a "mercado ilegal" (linha 7).
- II. O termo "quem" (linha 13) refere-se a "pet shops" (linha 12).
- III. O termo "que" (linha 15) refere-se a "cadela" (linha 14).
- IV. O termo "ela" (linha 15) refere-se a "Lucy" (linha 14).

É CORRETO o que se afirma em

- A) I e III, apenas.
- B) III e IV, apenas.
- C) I, II e III, apenas.
- D) I, III e IV, apenas.
- E) II e IV, apenas.

33ª QUESTÃO

Identifique, nos parênteses da **Coluna II**, as relações de sentido estabelecidas pelos conectivos **apenas, e, já que, porque** e **caso**, nos excertos da **Coluna I**, extraídos do texto.

COLUNA I

(1) "**Apenas** cães e gatos com menos de dois meses serão contemplados pela novidade [...]" (linhas 5 e 6).

(2) "[...] vivem em más condições **e** são forçados a reproduzir inúmeras vezes [...]" (linha 8 e 9).

(3) "[...] o mercado ilegal de compra e venda de pets, **já que** esses animais, em sua maioria, apresentam problemas de saúde [...]" (linhas 7 e 8).

(4) "[...] apresentam muitos problemas de saúde **porque** vivem em más condições [...]" (linhas 8 e 9).

(5) "**Caso** a proposta tenha aprovação, a lei pode ficar ainda mais rigorosa [...]" (linhas 10 e 11).

COLUNA II

() explicação

() condição

() adição

() restrição

() causa

A sequência numérica CORRETA que preenche os parênteses da **Coluna II**, de cima para baixo, é:

- A) 2, 5, 4, 1, 3.
- B) 3, 2, 5, 4, 1.
- C) 2, 1, 4, 5, 3.
- D) 1, 5, 2, 3, 4.
- E) 3, 5, 2, 1, 4.

34ª QUESTÃO

O texto I é

- A) uma reportagem que prioriza a narração.
- B) uma crônica que valoriza o passado.
- C) uma notícia que preza pela informação.
- D) um editorial que manifesta uma opinião.
- E) uma carta do leitor que apresenta uma reclamação.

Leia o texto a seguir e responda às questões de **35 a 39**.

Texto II



Foto: HUMANE SOCIETY/Projeto Esperança Animal (PEA)
Disponível em: <<http://nadafofo.com>>. Acesso em: 28 ago. 2018.

Texto no centro da imagem:

- | | |
|---|---|
| 1 | Milhões de cães são vendidos nesse esquema cruel por ano no mundo |
| 2 | Somente em São Paulo, são mais de 500 mil provenientes de criadouros clandestinos. Há mais de |
| 3 | 280 mil cães, entre machos e fêmeas, mantidos em cativeiro, para reprodução no mundo. E, ao |
| 4 | ano, mais de 3 milhões sofrem eutanásia. |

35ª QUESTÃO

De acordo com o texto,

- A) Os animais mantidos em cativeiros clandestinos tornam-se psicologicamente abalados.
- B) Milhões de cães são submetidos, anualmente, a condições degradantes em cativeiros clandestinos.
- C) Diversos animais são submetidos, anualmente, a um "corredor da morte" em cativeiros devidamente legalizados.
- D) O mercado ilegal de animais impede os governos de criarem políticas públicas de salvamento desses animais.
- E) Os cães mantidos em cativeiros são utilizados como matéria-prima pelas indústrias de cosméticos.

36ª QUESTÃO

A respeito de termos empregados no texto, é CORRETO afirmar:

- A) A expressão "mais de 500 mil" (linha 2) contradiz a informação anterior "milhões de cães" (linha 1), possibilitando que o texto perca a credibilidade.
- B) O termo "provenientes" (linha 2) pode ser substituído, sem prejuízo para a construção do sentido global do texto, por "coniventes".
- C) A expressão "esquema cruel" (linha 1) não engloba o termo "eutanásia" (linha 4).
- D) Se o termo "há" (linha 2) fosse substituído por uma flexão do verbo existir, a sentença, sem se desviar da norma padrão da língua portuguesa, seria: "Existe mais de 280 mil cães..."
- E) A expressão "machos e fêmeas" (linha 3) reforça que a manutenção de cães em cativeiro, com a finalidade de reprodução, independe do sofrimento a que foram submetidos.

37ª QUESTÃO

O texto II é um informe publicitário e insere-se no domínio discursivo

- A) literário.
- B) jornalístico.
- C) histórico.
- D) científico.
- E) filosófico.

38ª QUESTÃO

É objetivo do texto II

- A) influenciar o comportamento do leitor, por meio de apelos à conscientização contra os maus tratos de animais.
- B) questionar o fato de o homem se preocupar com o lucro na venda de pets.
- C) facilitar a compra de animais em criadouros clandestinos.
- D) defender a importância do conhecimento da realidade de vários animais provenientes de criadouros.
- E) definir propostas para a adoção de animais provenientes de criadouros clandestinos.

39ª QUESTÃO

No texto II, a palavra "entre" (linha 3) faz referência a:

- A) cães.
- B) mundo.
- C) criadouro.
- D) São Paulo.
- E) esquema.

Considere os textos I e II para responder às questões **40** e **41**.

40ª QUESTÃO

Os textos I e II

- A) complementam-se, porque a temática principal de ambos os textos é a geração de lucro das pet shops.
- B) contradizem-se, porque as realidades dos animais de estimação são diferentes na Inglaterra e no Brasil.
- C) complementam-se, porque em ambos os textos trata-se da temática das condições insólitas a que animais de estimação são submetidos para alimentar o comércio desses animais.
- D) contradizem-se, porque enquanto a preocupação, na Inglaterra, é com a saúde dos animais, no Brasil, a preocupação é com a eutanásia.
- E) complementam-se, porque em ambos os textos comemora-se a criação de um dispositivo legal que protege os animais.

41ª QUESTÃO

As linhas da tabela abaixo são constituídas de três colunas. Na **Coluna I** há excertos do Texto I, na **Coluna II** há excertos do Texto II e na **Coluna III** há a indicação do tema tratado nesses excertos. Analise cada linha da tabela e empregue V (verdadeira) e F (falsa) para a indicação temática dos excertos em destaque.

Coluna I	Coluna II	Coluna III
"Comércio informal e pet shops não poderão comercializar animais com menos de dois meses" (linha 2).	"Milhões de cães são vendidos nesse esquema cruel por ano no mundo" (linha 1).	() Venda de animais de estimação.
"O objetivo da medida é interromper o mercado ilegal de compra e venda de pets [...]" (linha 7).	"Somente em São Paulo, são mais de 500 mil provenientes de criadouros clandestinos" (linha 2).	() Necessidade de leis mais severas.
"[...] apresentam muitos problemas de saúde porque vivem em más condições e são forçados a reproduzir inúmeras vezes" (linhas 8 e 9).	"Há mais de 280 mil cães, entre machos e fêmeas, mantidos em cativeiro, para reprodução no mundo (linhas 2 e 3)".	() Manutenção de animais em cativeiro para fins de reprodução.
"Ela não resistiu aos problemas de saúde e morreu em 2016 [...]" (linhas 15 e 16).	"E, ao ano, mais de 3 milhões sofrem eutanásia" (linhas 3 e 4).	() Importância das clínicas veterinárias.

A sequência CORRETA de (V) e (F) que preenche os parênteses da **Coluna III**, de cima para baixo, é

- A) V, V, F, F.
- B) F, F, V, V.
- C) F, V, V, F.
- D) V, F, V, F.
- E) F, V, F, V.

Leia o texto a seguir e responda às questões de **42 a 44**.

Texto III



Disponível em: <https://www1.folha.uol.com.br/fsp/opiniaio/134878-charge.shtml?loggedpaywall#_=_>, em 21 out. 2013. Acesso em: 7 set. 2018.

42ª QUESTÃO

A análise dos elementos constitutivos do texto III demonstra que a finalidade do texto é

- A) informar a respeito de uma pesquisa realizada sobre o uso de animais em laboratórios.
- B) expor a opinião de um dos personagens sobre o uso de animais em laboratórios.
- C) aconselhar o leitor sobre o não uso de animais em laboratórios.
- D) expressar uma opinião crítica do autor do texto sobre o uso de animais em laboratórios.
- E) ensinar o leitor como se realiza uma pesquisa com animais em laboratórios.

43ª QUESTÃO

Analise as seguintes afirmativas acerca do texto III:

- I. A menção à opinião pública ("saber se a sociedade é contra ou a favor") é uma referência à pesquisa.
- II. As decisões tomadas nos gabinetes de pesquisa sempre cometem erros, porque não levam em consideração os sentimentos humanos nem a dor e o sofrimento dos animais.
- III. O fato de ter um animal "opinando", no segundo quadro, é uma referência ao fato de que, acerca desse tema, não se trata apenas de ouvir os seres humanos, mas também de se considerar o bem-estar dos próprios animais.

É CORRETO o que se afirma em

- A) I, apenas.
- B) II, apenas.
- C) III, apenas.
- D) I e III, apenas.
- E) I, II e III.

44ª QUESTÃO

A partir da leitura da charge (texto III), é CORRETO afirmar que o uso de animais em pesquisas de laboratório é um tema

- A) fácil.
- B) polêmico.
- C) confortável.
- D) obsoleto.
- E) claro.

Considere os textos I e III para responder à questão **45**.

45ª QUESTÃO

A respeito das relações entre os textos I e III, é CORRETO afirmar:

- A) Enquanto o texto I trata dos males da prisão de animais domésticos em cativeiro para fins de reprodução e consequente venda dos filhotes, o texto III trata dos males da prisão de animais domésticos em cativeiro para satisfazer interesses de pesquisa.
- B) Enquanto o texto I trata dos males da prisão de animais de raça na Inglaterra, que possuem um alto valor no mercado internacional, o texto III trata dos males da prisão de animais brasileiros, que não possuem nenhum tipo de valor financeiro para o público nacional.
- C) Enquanto o texto I trata dos benefícios da adoção de animais selvagens, que geralmente são subjugados em relação aos animais domésticos, o texto III trata da pouca importância dos ratos e demais animais peçonhentos utilizados em pesquisas científicas.
- D) Enquanto o texto I trata dos avanços científicos nas pesquisas com animais pela indústria farmacêutica, o texto III apresenta aspectos importantes relacionados à venda de animais em mercados clandestinos, o que inviabiliza o trabalho das pet shops.
- E) Enquanto o texto I destaca que animais domésticos mantidos em cativeiro, para fins de comercialização, estão sempre sujeitos a maus-tratos de seus mantenedores, no texto III justifica-se a necessidade de um tratamento mais ameno aos animais para fins de pesquisa, uma vez que esse tratamento interfere nos resultados científicos.

Considere os textos II e III para responder à questão **46**.

46ª QUESTÃO

Comparando-se o texto II com o texto III, é CORRETO afirmar que

- A) a menção a cães aprisionados no texto II complementa a crítica presente no texto III.
- B) é inapropriado utilizar o texto II para ilustrar a temática abordada no texto III, tendo em vista que cães não são utilizados em pesquisas de laboratório.
- C) o texto II se referiria diretamente ao texto III, desde que se remetesse a ratos, e não a cães.
- D) o texto II justifica o texto III, pois só há aprisionamento de animais com a finalidade de se fazer pesquisas.
- E) o texto II considera somente a situação dos cães nas pesquisas brasileiras, diferentemente do texto III, que considera todos os animais.

Leia o texto a seguir e responda às questões de 47 a 49.

Texto IV

IBGE - População de animais de estimação no Brasil - 2013 - Em milhões



IBGE		Mundo	
	2013		2013
Cães	52,2	Peixes	655,8
Aves	37,9	Cães	360,8
Gatos	22,1	Gatos	271,9
Peixes	18,0	Aves	205,2
Outros*	2,21	Outros*	70,3
Total	132,4	Total	1,5

* Estimativa Abinpet para outros animais de estimação
* Outros (Répteis e pequenos mamíferos)
Obs: Pesquisa quinquenal

Fonte:
Euromonitor
Elaboração:
Abinpet

**Brasil no mundo - 4º em número de animais de estimação – 132 milhões;
2º em número de cães, gatos e aves canoras e ornamentais;
9º em número de répteis e pequenos mamíferos;
10º em número de peixes ornamentais.**

Fonte: IBGE
Elaboração: Abinpet

Disponível em: <<http://www.agricultura.gov.br/assuntos/camaras-setoriais-tematicas/documentos/camaras-tematicas/insumos-agropecuarias/anos-antiores/ibge-populacao-de-animais-de-estimacao-no-brasil-2013-abinpet-79.pdf/view>>. Acesso em: 9 set. 2018.

47ª QUESTÃO

A partir da leitura do texto IV, é CORRETO afirmar:

- A) No Brasil, segue-se uma tendência mundial de serem os cães os animais de estimação mais comuns.
- B) Há coincidência entre a ocorrência das diferentes espécies de animais de estimação no Brasil e no mundo, embora a ordenação dessa ocorrência não seja exatamente a mesma.
- C) O objetivo da tabela, organizada pelo IBGE, é enfatizar como os brasileiros possuem muitos animais de estimação maltratados.
- D) Os animais considerados exóticos, por exemplo, aqueles oriundos da região amazônica, são frequentemente animais de estimação.
- E) Os animais de estimação mais adotados no mundo são os cães.

48ª QUESTÃO

Com base no texto, analise as afirmações abaixo, empregando (V) para as verdadeiras e (F) para as falsas.

- () No Brasil, em 2013, havia cerca de 52,2 milhões de cães como animais de estimação.
- () O Brasil está entre os cinco países no mundo que mais possuem animais de estimação.
- () Os gatos são os animais de estimação mais adotados no Brasil.

A sequência CORRETA de afirmativas verdadeiras (V) e falsas (F), de cima para baixo, é:

- A) V, V, V.
- B) F, V, V.
- C) V, V, F.
- D) F, V, F.
- E) V, F, V.

49ª QUESTÃO

Conclui-se a partir da comparação entre os dados quantitativos da população de animais de estimação no Brasil e no mundo que

- A) o Brasil se destaca mundialmente em número de cães, gatos e aves canoras e ornamentais como animais de estimação, ocupando o segundo lugar em ocorrências mundiais.
- B) o Brasil se destaca como o maior exportador de animais de estimação no mundo.
- C) a maioria dos peixes ornamentais no mundo são provenientes do Brasil.
- D) o número de animais de estimação no Brasil é o dobro do número de animais de estimação no mundo.
- E) há mais aves no Brasil que no mundo, considerando-se o total dos animais de estimação.

Considere os textos II e IV para responder à questão **50**.

50ª QUESTÃO

A partir da leitura dos textos II e IV, é CORRETO afirmar:

- A) o texto II trata do esquema cruel a que são submetidos muitos animais domésticos, e o texto IV informa, em milhões, quantos são os animais de estimação que sofrem no Brasil.
- B) o texto IV apresenta índices que evidenciam o quanto os animais domésticos sofrem no Brasil e no mundo, enquanto o texto II não aborda o sofrimento de animais.
- C) o texto IV apresenta índices de ocorrência de animais de estimação no Brasil e no mundo, enquanto o texto II denuncia o que ocorre com todos esses animais.
- D) tanto no texto II quanto no texto IV, pode-se constatar a indignação dos autores desses textos em relação ao número excessivo de animais de estimação.
- E) o texto II e o texto IV se diferem quanto aos propósitos comunicativos, embora ambos tenham como tema animais de estimação.